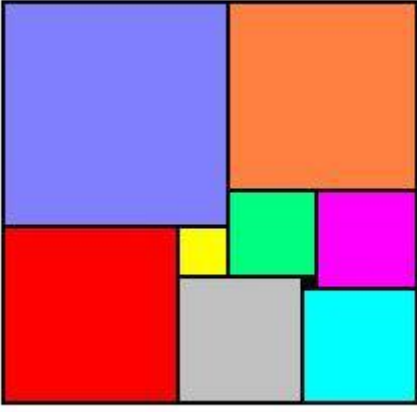


Un rectangle de neuf carrés

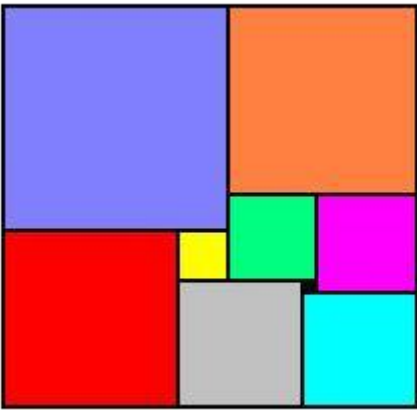


Le rectangle ci-contre est constitué de neuf carrés.

Le carré noir a pour côté 1 cm et le carré gris 10 cm.

Ce rectangle est-il carré ?

Un rectangle de neuf carrés

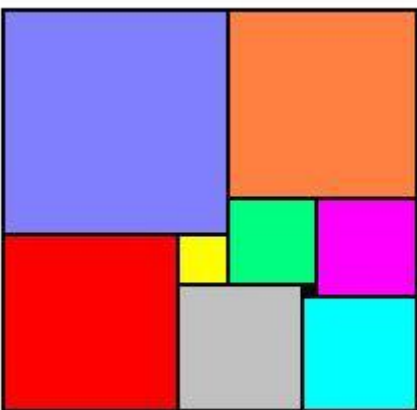


Le rectangle ci-contre est constitué de neuf carrés.

Le carré noir a pour côté 1 cm et le carré gris 10 cm.

Ce rectangle est-il carré ?

Un rectangle de neuf carrés



Le rectangle ci-contre est constitué de neuf carrés.

Le carré noir a pour côté 1 cm et le carré gris 10 cm.

Ce rectangle est-il carré ?